









🎀 Aşağıdaki soruları resme göre cevaplayalım.

 4 TL	 5 TL	 3 TL	 2 TL
 2 TL	 10 TL	 15 TL	 20 TL

1. Resimdeki topu alabilmek için kaç TL'ye ihtiyacımız var?

--

2. 8 TL'si olan Sinan yukarıdakilerden hangilerini alabilir?

--

3. Elif'in silgi alabilecek kadar parası vardır. Elif bunu yerine başka ne alabilir?

--

4. Anıl'ın kek ve dondurma alabilmesi için ne kadar paraya ihtiyacı vardır?

--